



**ASSIGNMENT 2024-25**

**SUBJECT :- ENGLISH**

**CLASS: 2**

**NAME:.....**

**Date of Submission: .....**

**Make the sentence**



have kite a I

.....



red apple is An

.....



is This ball a

.....



blue ruler is A

.....



orange An orange is

.....

**Write this paragraph on the line given below.**

*A tree is a tall plant with a trunk and branches made of wood. Trees can live for many years. The four main parts of a tree are the roots, the trunk, the branches, and the leaves. Trees take in water and Carbondioxide and give out Oxygen. The tree is often used to represent nature.*

.....

---

---

---

---

---

---

---

---

---

---

---

---

---

---

---

---

---

---

---

---

---

# About Me

My name is \_\_\_\_\_.

My birthday is in \_\_\_\_\_.

I am \_\_\_\_\_ years old.

I am a \_\_\_\_\_.(boy/girl)

I am studying in \_\_\_\_\_ school.

I am studying in \_\_\_\_\_ grade/class.

My favorite fruit is \_\_\_\_\_.

My favorite vegetable is \_\_\_\_\_.


My favorite color is \_\_\_\_\_.

My best friend's name is \_\_\_\_\_.

My favorite subject is \_\_\_\_\_.

My hobbies are \_\_\_\_\_.

I want to become a \_\_\_\_\_.



Read the words in each pot and Circle the words that rhyme



See the Pictures and fill the correct blend

Blends bank: th, ch, wh, sh, ph



\_\_\_air



\_\_\_eep



\_\_\_umb



\_\_\_oto



\_\_\_ark



\_\_\_istle



\_\_\_erry



\_\_\_orn



\_\_\_eel



\_\_\_one



Read the given passage carefully & answer the following:

# Oranges


Oranges grow on trees. They are a type of fruit. The orange tree is a fruit tree. Oranges are extremely healthy. They have a lot of vitamin C. In Thailand many people drink fresh orange juice every day. It tastes very yummy. I prefer 100% freshly pressed orange juice with no added sugar. It is healthiest.



*Teacher Tammy*

1. Oranges grow on \_\_\_\_\_.
2. They have a lot of \_\_\_\_\_.
3. Many people drink fresh \_\_\_\_\_ every day.
4. Oranges are extremely \_\_\_\_\_.
5. They have \_\_\_\_\_ vitamin C.

Join the letters and COLOUR it.



# Match the words

fish

chair

dog

fan

egg

dad

boy

door

cup

cat





# TRUE FRIENDS



**Do not cut  
me,  
cried the  
tree.**



**Because i  
give you rain  
free.**




**In my cool  
shade  
you rest,**



**Eat my fruits  
that are best.**

**Take in my fresh  
smell,  
Let me live  
my life well.**



**Also, complete page no. 2 to 17 in cursive book.**



**ASSIGNMENT SESSION: 2024-25**

**SUBJECT: - HINDI**

**CLASS: 2**

**NAME:.....**

**Date of Submission: .....**

1.

**(क) रिक्त स्थानों की पूर्ति कीजिए।**

1. एक सप्ताह में ..... दिन होते हैं। (सात/आठ)
2. एक महीने में ..... दिन होते हैं। (तीस/बत्तीस)
3. एक वर्ष में ..... दिन होते हैं। (तीन सौ पैसठ/तीन सौ साठ)
4. एक वर्ष में ..... ऋतुएँ होती हैं। (चार, छह)

**(ख) मिलान कीजिए-**

- |            |            |
|------------|------------|
| 1. ग्रीष्म | (क) बसंत   |
| 2. शरद     | (ख) ऋतुराज |
| 3. बसंत    | (ग) सरदी   |
| 4. होली    | (घ) गरमी   |



**(ग) सही (✓) या गलत (x) का चिह्न लगाइए-**

1. जनवरी के महीने में 30 दिन होते हैं।
2. सप्ताह का पहला दिन सोमवार होता है।
3. एक वर्ष में 368 दिन होते हैं।
4. बागों में फूल वर्षा ऋतु में खिलते हैं।
5. होली का त्योहार बसंत ऋतु में मनाया जाता है।



2

जो भाषा के काम हैं, उनके आगे (✓) और जो भाषा के काम नहीं हैं, उनके आगे (×) लगाइए-

लिखना गाना बोलना सुनना सोना पढ़ना 

3

11 स्वरों और 33 व्यंजनों के अलावा कुछ अन्य वर्ण भी हिंदी वर्णमाला के सदस्य हैं। ऐसे कोई चार वर्ण लिखिए-

.....

4

स्वरों को उनकी सही मात्रा से मिलाइए-

उ आ ऋ औ ए

। ८ ७ २ १

5

वर्णों को सही क्रम में लिखकर शब्द बनाइए-

ल, द, बा = .....

म, ल, क = .....

म, ला, ग = .....

ता, पी, प = .....

6

दो-दो नाम लिखिए-

आँख - .....

.....

रात - .....

.....

चिड़िया - .....

.....

7

धुल्लिंग को सही स्त्रीलिंग से मिलाइए-

दादा

घोड़ी

पिता

शेरनी

शेर

दादी

घोड़ा

माता

## एक या अनेक लिखिए-

8



.....



.....



.....



.....

9.

## सही विशेषण शब्द भरकर वाक्य पूरे कीजिए-

क. चाय ..... होती है।

ख. शहद ..... होता है

ग. इमली ..... होती है।

घ. आइसक्रीम ..... होती है।

10.

## उलटे अर्थवाले शब्द लिखिए-

मोटा - .....

ऊपर - .....

गरम - .....

नया - .....

11.

## चित्र देखकर खाली स्थान भरिए-


क. पेड़ के पीछे से ..... निकल  
रहा है।

ख. कुछ बच्चे ..... खेल रहे हैं।

ग. एक बच्चे के हाथ में ..... हैं।

घ. बच्चे ..... में रंग भरकर  
एक-दूसरे पर फेंक रहे हैं।

ङ. सब बच्चे बहुत .....  
..... हैं।





12. बताइए, ये भाषा के कौन-से रूप हैं?

क. फोन पर बात करना .....

ख. गृहकार्य करना .....

ग. अखबार पढ़ना .....

घ. दोस्तों से बात करना .....

13. शब्द बनाइए-

बा + द + ल = ..... बि + ज + ली = .....

गा + य + क = ..... ति + त + ली = .....

14. शब्दों को सही क्रम में लिखकर वाक्य बनाइए-

अमन आएगा कल .....

अच्छा एक लड़का है नमन .....

हर्ष गाता गाना अच्छा है .....

तेज बहुत घोड़ा है दौड़ता .....

15. बताइए, ये किनके नाम हैं?

क. सेब संतरा केला .....

ख. कमल गुलाब मोगरा .....

ग. पीला बैंगनी लाल .....

घ. बस ट्रक कार .....

16. लिंग बदलकर लिखिए-

लड़की - ..... मोर - .....

17. दीदी - ..... चूहा - .....

18. वचन बदलकर लिखिए-

माला - ..... गेंद - .....  
बहन - ..... कपड़ा - .....

उचित सर्वनाम शब्द लिखकर वाक्य पूरे कीजिए-

क. .... सब मेरे घर आना।

ख. .... मिलकर खेलेंगे।

ग. .... बहुत सुंदर है।

घ. .... नाम रोहन है।

तुम  
मेरा  
हम  
वह

20. सही विशेषण लिखिए-

..... आम ..... घर  
..... इमली ..... कोयल

21. काम बताने वाले कोई पाँच शब्द लिखिए-

.....  
.....

22. एक जैसे अर्थवाले शब्द लिखिए-

पानी ..... वृक्ष ..... माँ .....  
दाँत ..... चाँद ..... फूल .....

23. रंगीन शब्दों के विपरीत लिंग वाले शब्दों से रिक्त स्थान भरिए-

क. नाना ने ..... को दवाई दी।

ख. भाई ने ..... से राखी बँधवाई।

ग. शेर और ..... गुफा में रहते हैं।

घ. राजा और ..... महल में रहते हैं।

ङ हम रात में सोते हैं और ..... में काम करते हैं।



क) पशुओं की सही बोली से रिक्त स्थानों की पूर्ति कीजिए-

1. शेर ..... है।
2. हाथी ..... है।
3. घोड़ा ..... है।
4. गधा ..... है।
5. गाय ..... है।



(ख) मिलान कीजिए-

- |          |               |
|----------|---------------|
| 1. चीता  | (क) गुटर-गूँ  |
| 2. बंदर  | (ख) टराना     |
| 3. कोयल  | (ग) किलकिलाना |
| 4. कबूतर | (घ) गुराना    |
| 5. मेंढक | (ङ) कूकना     |

(ग) सही (✓) या गलत (×) का चिह्न लगाइए-

1. घोड़ा हिनहिनाता है।
2. कोयल काँव-काँव करती है।
3. बंदर भौंकता है।
4. मुर्गा कुकड़ूँ-कूँ करता है।
5. मेंढक गुराता है।
6. मक्खियाँ भिनभिनाती हैं।

24.

## मेरा परिचय

- (क) मेरा नाम ..... है।  
(ख) मैं एक ..... हूँ। (लड़का/लड़की)  
(ग) मैं ..... वर्ष (का/की) हूँ।  
(घ) मैं कक्षा एक में पढ़ता/पढ़ती हूँ।  
(ङ) मेरे विद्यालय का नाम ..... है।  
(च) मैं ..... में रहता/रहती हूँ।  
(छ) मेरे पिता जी का मोबाइल नं. .... है।  
(ज) मेरी माता जी का मोबाइल नं. .... है।



25.

## मेरा विद्यालय



यह मेरा विद्यालय है। मेरे विद्यालय का नाम ..... है।  
मेरे विद्यालय में ..... कक्षाएँ हैं। मेरे विद्यालय में ..... अध्यापक हैं। मेरे  
प्रधानाचार्य का नाम ..... है। मेरे विद्यालय परिसर में खेलने के लिए एक बड़ा  
..... है। मैं अपने ..... से बहुत प्रेम करता/करती हूँ।





**ASSIGNMENT: 2024-25**

SUBJECT :- MATHS

CLASS: 2

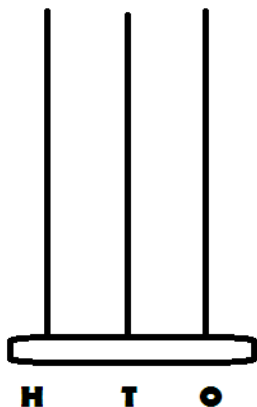
NAME:.....

Date of Submission: .....

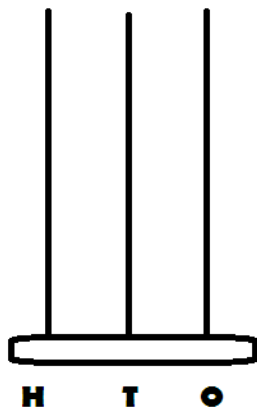
**1. Write the expanded form of following numbers.**

73	=	<input type="text"/>	tens	+	<input type="text"/>	ones
95	=	<input type="text"/>	tens	+	<input type="text"/>	ones
23	=	<input type="text"/>	tens	+	<input type="text"/>	ones
48	=	<input type="text"/>	tens	+	<input type="text"/>	ones
54	=	<input type="text"/>	tens	+	<input type="text"/>	ones
60	=	<input type="text"/>	tens	+	<input type="text"/>	ones
98	=	<input type="text"/>	tens	+	<input type="text"/>	ones
87	=	<input type="text"/>	tens	+	<input type="text"/>	ones
11	=	<input type="text"/>	tens	+	<input type="text"/>	ones
63	=	<input type="text"/>	tens	+	<input type="text"/>	ones
59	=	<input type="text"/>	tens	+	<input type="text"/>	ones
28	=	<input type="text"/>	tens	+	<input type="text"/>	ones

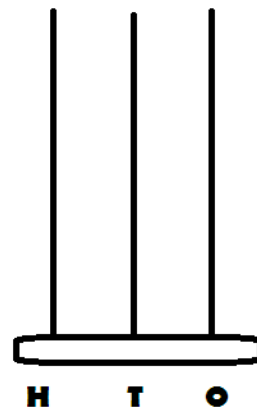
2. Draw beads in the spikes of the abacus to show the numbers written below each abacus.



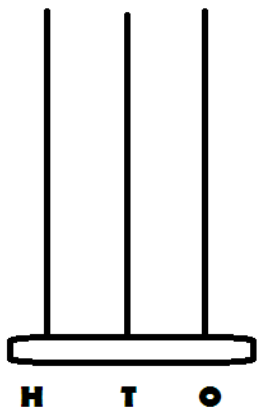
(A) 138



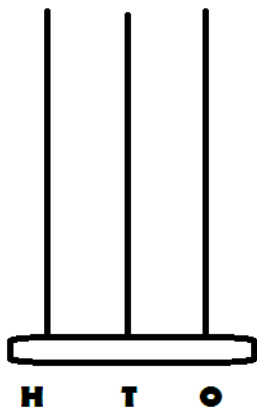
(B) 167



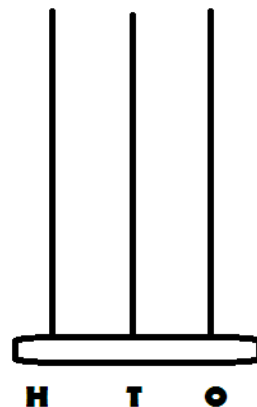
(C) 104



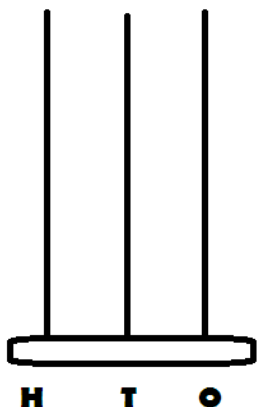
(D) 123



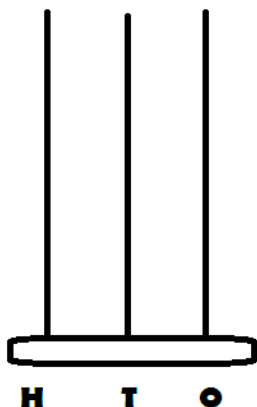
(E) 198



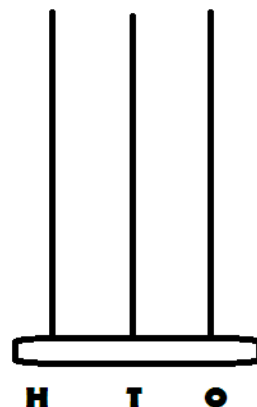
(F) 113



(G) 150



(H) 100



(I) 111

### 3. Complete the table.

201									210
				215					
		233							
251									
					266				
							278		
			284						
291									300

### 4. Write the correct comparison symbols ( $<$ , $>$ or $=$ ) in each box.

- |      |     |                      |     |      |     |                      |     |
|------|-----|----------------------|-----|------|-----|----------------------|-----|
| 1 )  | 122 | <input type="text"/> | 197 | 11 ) | 177 | <input type="text"/> | 963 |
| 2 )  | 765 | <input type="text"/> | 260 | 12 ) | 743 | <input type="text"/> | 144 |
| 3 )  | 430 | <input type="text"/> | 474 | 13 ) | 809 | <input type="text"/> | 198 |
| 4 )  | 229 | <input type="text"/> | 284 | 14 ) | 585 | <input type="text"/> | 464 |
| 5 )  | 432 | <input type="text"/> | 159 | 15 ) | 107 | <input type="text"/> | 780 |
| 6 )  | 343 | <input type="text"/> | 379 | 16 ) | 143 | <input type="text"/> | 614 |
| 7 )  | 548 | <input type="text"/> | 618 | 17 ) | 222 | <input type="text"/> | 933 |
| 8 )  | 793 | <input type="text"/> | 723 | 18 ) | 900 | <input type="text"/> | 845 |
| 9 )  | 810 | <input type="text"/> | 462 | 19 ) | 198 | <input type="text"/> | 114 |
| 10 ) | 368 | <input type="text"/> | 679 | 20 ) | 435 | <input type="text"/> | 473 |

**5. Write numbers name of the following numbers.**

(a) 120- \_\_\_\_\_

(b) 153- \_\_\_\_\_

(c) 192- \_\_\_\_\_

(d) 175- \_\_\_\_\_

(e) 134- \_\_\_\_\_

(f) 187- \_\_\_\_\_

(g) 144- \_\_\_\_\_

(h) 176- \_\_\_\_\_

(i) 124- \_\_\_\_\_

(j) 142- \_\_\_\_\_

(k) 178- \_\_\_\_\_

(l) 100- \_\_\_\_\_

(m) 170- \_\_\_\_\_



6. Learn and write the tables from 2 to 9.

<u>Table of 2</u>	<u>Table of 3</u>

**Table of 4**

**Table of 5**


# Table of 6

# Table of 7


**Table of 8**

**Table of 9**




**ASSIGNMENT: 2024-25**

**SUBJECT :- EVS**

**CLASS: 2**

**NAME:.....**

**Date of Submission: .....**

When I grow up  
I want to be a...



.....

.....

**because**

.....

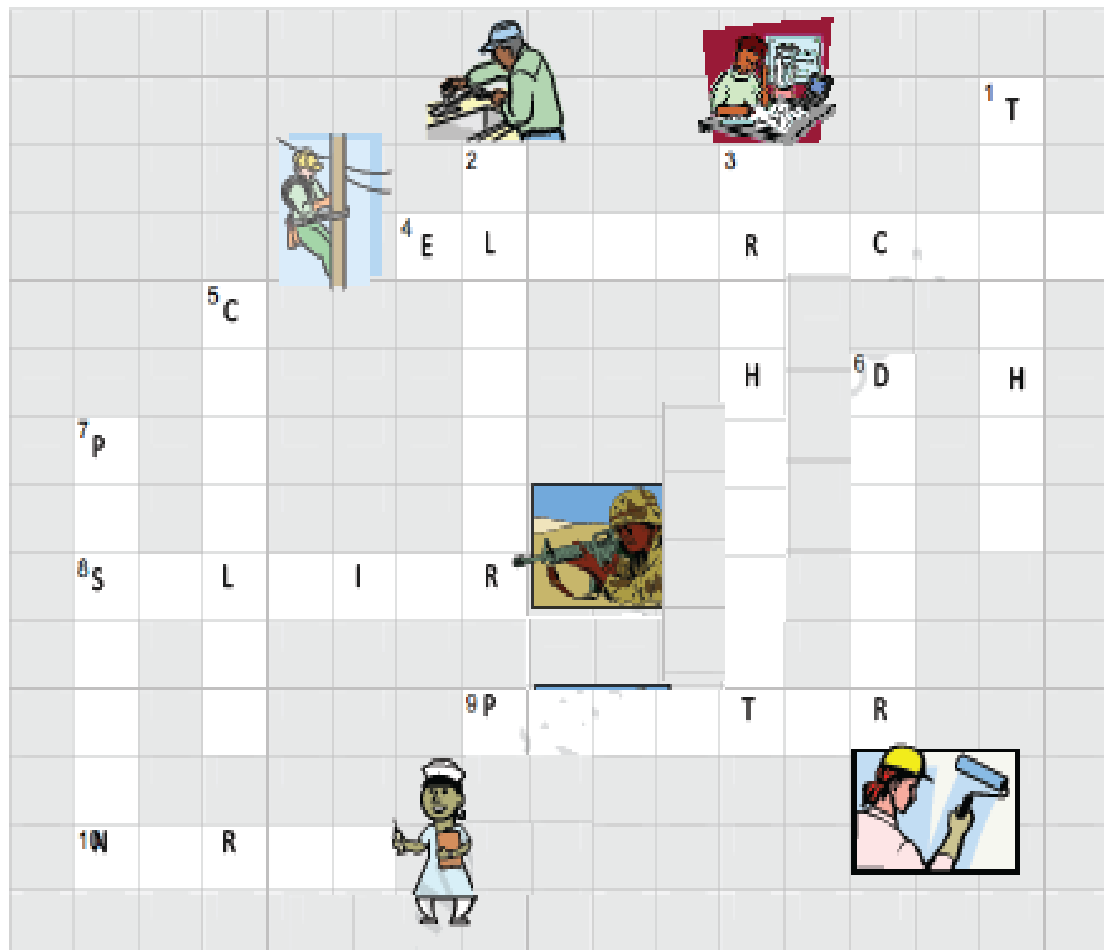
.....

.....



**Name: \_\_\_\_\_**

Complete the crossword puzzle with the help of given clues:




Clues Across		Clues Down	
4	Fixes the electrical wires, lights and fans	1	Teaches
8	Protects our country from enemies	2	Fits the water tank, pipes and taps
9	Paints the walls and ceiling	3	Makes the plan of a house
10	Takes care of patients admitted in hospital	5	Mends our shoes
7	Brings our letters home	6	Treats us when we are sick




# People At Work

Draw the correct tool for each community helper.




paste

doctor




paste

mechanic



paste

farmer

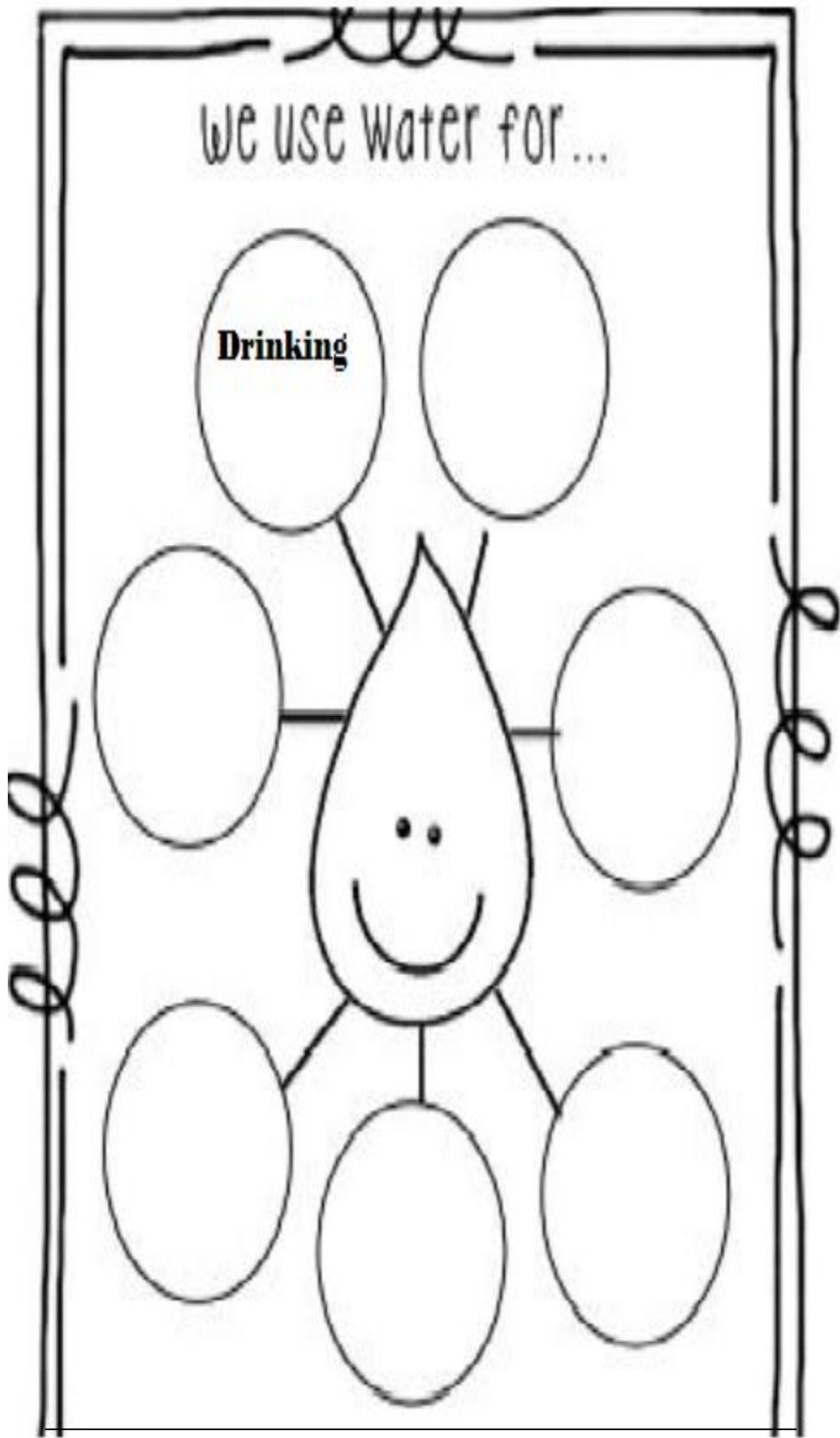


paste

chef

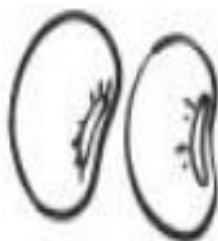
 stethoscope	 frying pan	 shovel	 wrench
--	---	---	---

**Write some uses of water.**



## Healthy –Unhealthy

Healthy foods – Color the healthy foods



beans



fries



strawberry



candy



carrot




cookie



candy cane



soda



fish



broccoli



avocado



cake

## ANIMALS

### Uses of domestic animals

Fill in the blanks with correct words given in the box:

milk	wool	eggs	ride
loads	catches	honey	guards

1. We can \_\_\_\_\_ on a horse.



2. A hen gives us \_\_\_\_\_ and chicken.



3. A donkey can carry \_\_\_\_\_ on its back.



4. A honey bee gives us \_\_\_\_\_.



5. A dog \_\_\_\_\_ our house.



6. A sheep gives us \_\_\_\_\_.



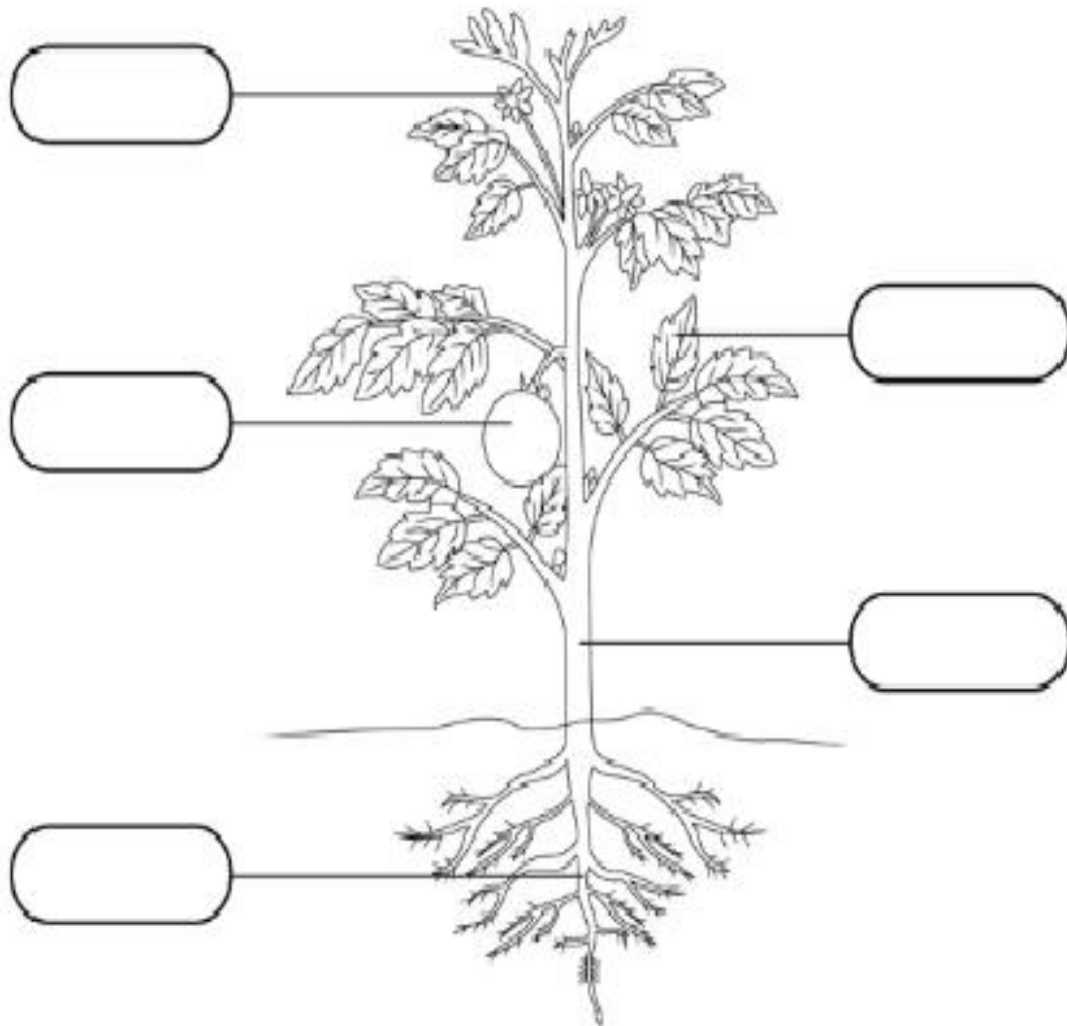
7. We get \_\_\_\_\_ and meat from a goat.



8. A cat \_\_\_\_\_ mice.



Label the  
**Parts of a Plant**



**Word Box**

Flower

Fruit

Stem

Leaf

Root

**Fill in the blank, using helpbox.**

grandfather

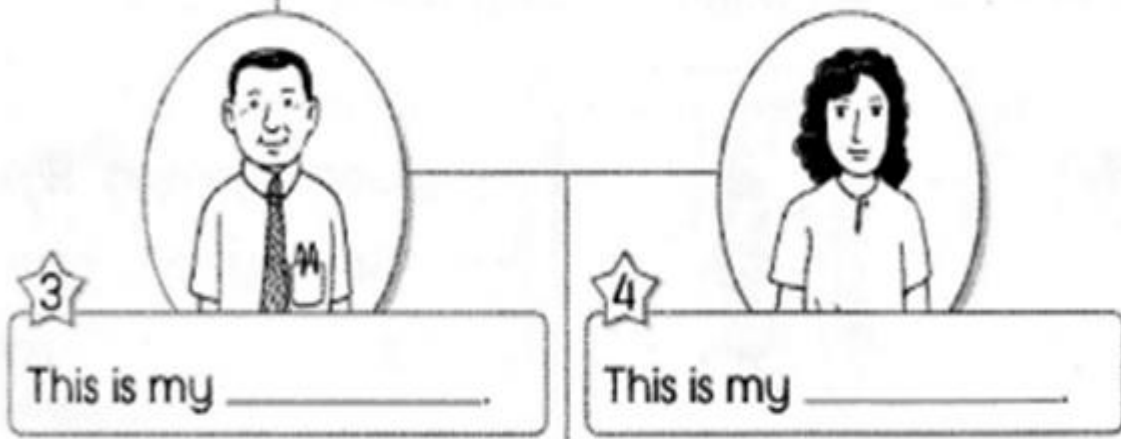

sister

grandmother

brother

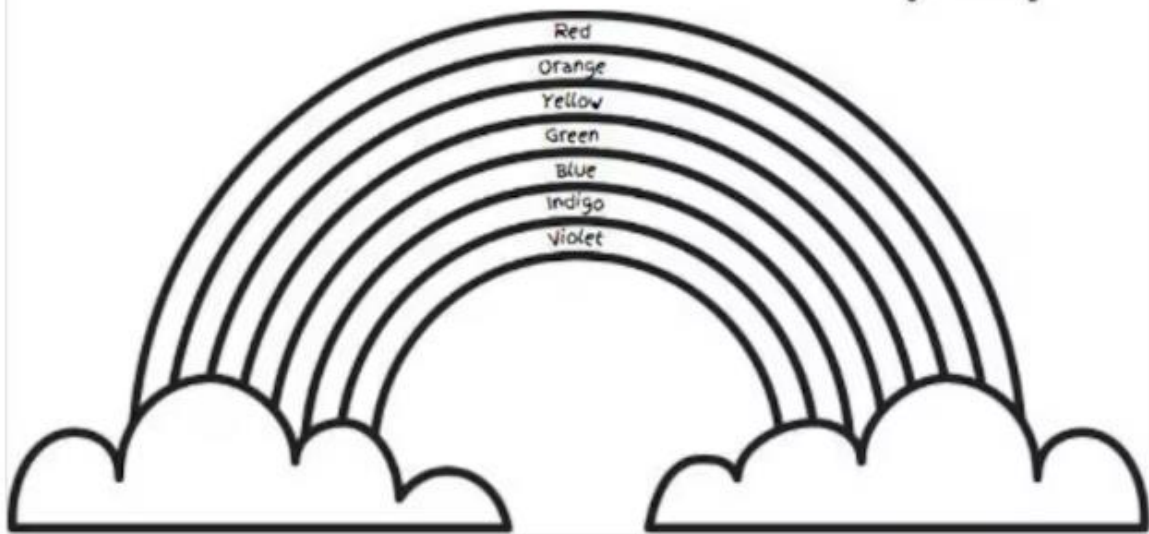

mother

father





Color the rainbow



Write seven colours of rainbow in sequence starting from violet

1. ....

2. ....

3. ....

4. ....

5. ....

6. ....

7. ....



**ASSIGNMENT: 2024-25**

**SUBJECT :- GENERAL KNOWLEDGE**

**CLASS: 2**

**NAME:.....**

**Date of Submission: .....**


**1. Valuable plants :-**

Plants are an essential part of our lives. They provide us a lot of useful things & write their name using the clue box.



1. we get oil from the seeds of this plant.

\_\_\_\_\_.



2. floor mats mattresses and brushes are made from the husk of this plant.

\_\_\_\_\_.



3. the grain of this plant is the staple food of many countries including India.

\_\_\_\_\_.





4. the milky liquid which is taken from this tree is used to make erasers , types , tubes , bands , garden tools ,etc ..

\_\_\_\_\_.



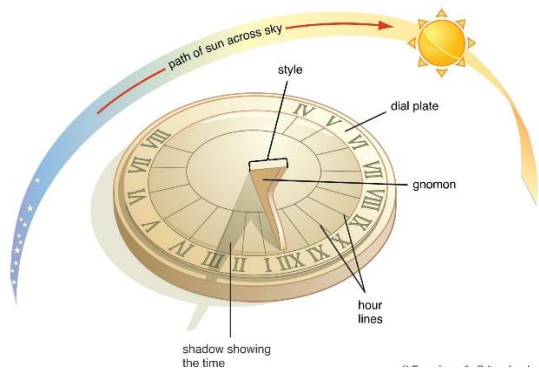
5. this plant is used to make medicines and treat skin problem. \_\_\_\_\_.

2. Compound words are made by joining two words. identify and write the names of the following pictures with addition [ + ] sign in between :-



**Identify the following types of clock by taking help from the pictures , the description and the clue box .**

**Hourglass , Analog clock, Sundial , Pendulum clock , Digital clock, Alarm clock**



1. \_\_\_\_\_



2. \_\_\_\_\_



3. \_\_\_\_\_



4. \_\_\_\_\_



5.




\_\_\_\_\_




6.

\_\_\_\_\_

**Read the statement and find the answer. []**

	<p><b>It is a small flightless bird. It is blind and hunts by smell , touch and hearing.</b></p> <p>_____.</p>
	<p><b>It is one of the animals that cannot jump.</b></p> <p>_____.</p>
	<p><b>This animal can sleep for three years.</b></p> <p>_____.</p>




It is the largest animal on the earth.

\_\_\_\_\_.



It is the only mammal that can fly.

\_\_\_\_\_.



This animal is only found in Australia and can sleep for 18 hours a day.

\_\_\_\_\_.



This bird has 3 stomachs and the largest eye of any land animal.

\_\_\_\_\_.



This black and white coloured animal eats bamboo and has 6 toes.

\_\_\_\_\_.



**ASSIGNMENT: 2024-25**

**SUBJECT :- COMPUTER**

**CLASS: 2**

**NAME:.....**

**Date of Submission: .....**

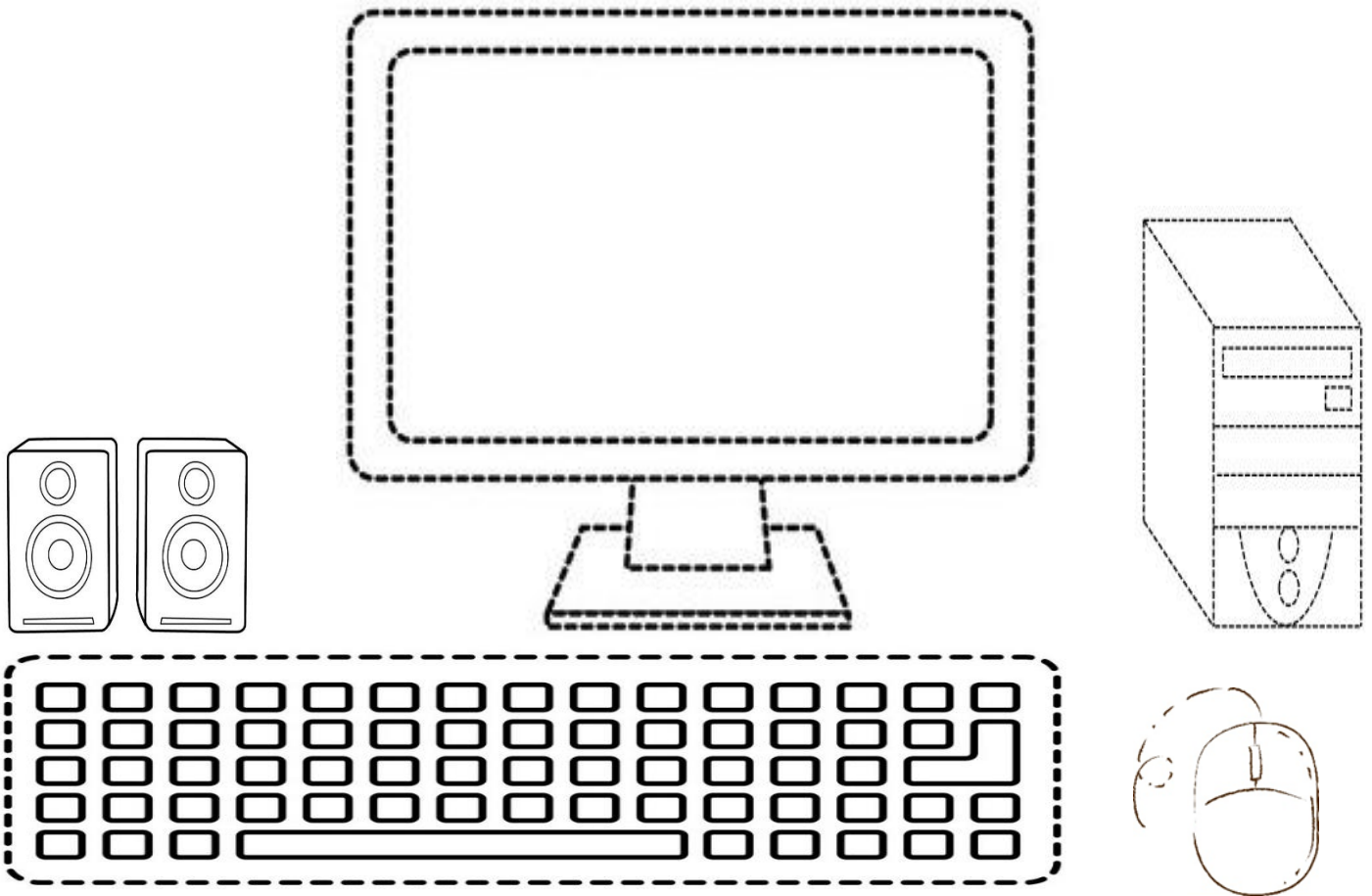
**1. Write new words & learn with spellings. ( two times ):-**

- ❖ Computer \_\_\_\_\_ . \_\_\_\_\_.
- ❖ Desktop \_\_\_\_\_ . \_\_\_\_\_.
- ❖ Laptop \_\_\_\_\_ . \_\_\_\_\_.
- ❖ Printer \_\_\_\_\_ . \_\_\_\_\_.
- ❖ Monitor \_\_\_\_\_ . \_\_\_\_\_.
- ❖ Speaker \_\_\_\_\_ . \_\_\_\_\_.
- ❖ Keyboard \_\_\_\_\_ . \_\_\_\_\_.
- ❖ Input \_\_\_\_\_ . \_\_\_\_\_.
- ❖ Output \_\_\_\_\_ . \_\_\_\_\_.
- ❖ Process \_\_\_\_\_ . \_\_\_\_\_.
- ❖ Smart machine \_\_\_\_\_ . \_\_\_\_\_.
- ❖ C.P.U = Central Processing unit \_\_\_\_\_ .  
\_\_\_\_\_.
- ❖ U.P.S = Uninterrupted Power Supply \_\_\_\_\_ .  
\_\_\_\_\_.

**2. Fill in the missing letters to complete these names.**

- C\_\_mp\_\_t\_\_r.
- D\_\_skt\_\_p.
- L\_\_pt\_\_p.
- Pr\_\_nt\_\_r.
- M\_\_nit\_\_r

**3. Trace the picture of computer with pencil .[ PRACTICE IN YOUR HOME ]**



**Complete the sentences using the words given in the box :- ( learn & write).**

**Personal computer , C.P.U long hour , mistakes , laptop**

1. Computer never makes \_\_\_\_\_
2. A computer can work for \_\_\_\_\_ without getting tired .
3. A desktop computer is also called a \_\_\_\_\_
4. We can carry \_\_\_\_\_ from one place to another.
5. Processing is done by \_\_\_\_\_.



**[ Write true and false statements ]**

1. Computer is a man made machine .

2. A computer can do only one things at a time .

3. A computer has no feelings or emotions.

4. Tablets are also known as flip flops

5. Computer are used for forcasting weather information.

**Write [ I ] input [ P ], process & [ O ] output in correct order :-**

